

# 蚌埠第三中学 2018-2019 学年度 第二学期 第二次教学质量检测

## 2021 届高三一年级 地理试题

全卷满分 100 分

命题：蚌埠三中考试中心命题组

制卷：徐浩

★祝考试顺利★

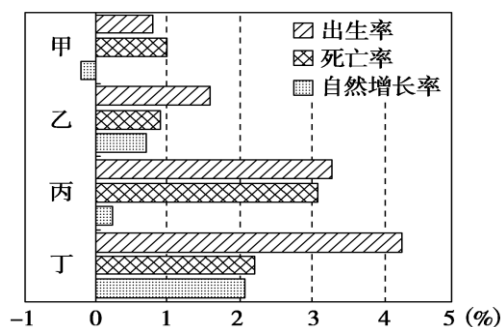
### 【注意事项】

1. 答卷前，先将自己的姓名、准考证号填写在试题卷和答题卡上，并将准考证号条形码粘贴在答题卡上的指定位置。
2. 选择题的作答：每小题选出答案后，用合乎要求的 2B 铅笔把答题卡上对应题目的答案标号涂黑。写在试题卷、草稿纸和答题卡上的非答题区域均无效。
3. 非选择题的作答：用签字笔直接答在答题卡上对应的答题区域内。写在试题卷、草稿纸和答题卡上的非答题区域均无效。
4. 考试结束后，请将本试题卷和答题卡一并上交。

### 第 I 卷（选择题）

#### 一、单选题（共 30 小题，每小题 2 分）

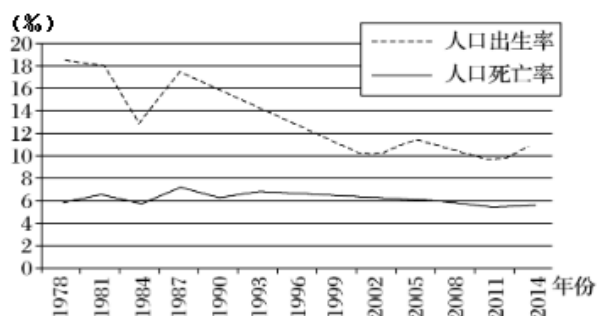
读图，完成下列各题。



1. 与现在我国人口增长特点相似的国家是( )  
A. 甲                      B. 乙                      C. 丙                      D. 丁
2. 甲国最可能位于( )  
A. 非洲                      B. 亚洲                      C. 拉丁美洲                      D. 欧洲
3. 与其他三国相比，丁国 ( )  
A. 出生率最低                      B. 人口增长数量最多                      C. 死亡率最高                      D. 人口增长模式为传统型

自 2016 年 1 月 1 日起，中国实施全面“二孩”政策。下图为“浙江省 1978—2014 年的人口出生率和死亡率变化图。”。

读图完成下列各题。



4. 浙江省自 1978 年以来（ ）
- A. 人口出生率持续下降    B. 人口的总量持续减少    C. 属“高一低一高”模式    D. 人口增长模式变化显著
5. 随着生育政策的调整，预计今后十年内浙江（ ）
- A. 社会抚养压力加大    B. 人口出生率持续提高    C. 劳动力人口比重增加    D. 老龄化问题得到解决

十九大报告指出，要实施乡村振兴战略，“支持和鼓励农民就业创业，拓宽增收渠道”。“城归”就是从城里返回乡下的创业人员。截至 2017 年 9 月中旬，全国共有 480 多万“城归”返乡创业。据此完成下列小题。

6. 下列省级行政区中“城归”现象最明显的为( )
- A. 四川                      B. 山东                      C. 浙江                      D. 天津
7. “城归”返乡对农村的影响是( )
- A. 增大留守儿童比例    B. 降低环境人口容量    C. 提高创新活力    D. 彻底解决养老问题
8. “城归”现象将促使上海加快发展( )
- A. 资金密集型产业    B. 劳动密集型产业    C. 资源密集型产业    D. 技术密集型产业

下表是我国 “某城市迁入人口年龄及性别统计表”，据此完成下列各题。

年龄段	0-14	15-29	30-44	45-59	≥60
男性人口(万人)	5.04	25.14	14.68	4.94	1.76
女性人口(万人)	3.84	37.10	11.63	4.01	17.8

9. 该市迁入人口的特征有（ ）
- A. 男性人口多于女性人口                      B. 人口迁移主要受经济因素影响
- C. 以老年人口为主                              D. 与该市原有人口年龄构成相似
10. 迁入人口对该市的影响有（ ）
- A. 缓和了当地就业紧张的状况                      B. 制约了该市经济的发展
- C. 减少了该市的被抚养人口                      D. 加大了城市基础设施的压力

人口的发展一定要与经济社会发展相协调，与环境的承载力相适应。据此回答下列各题。

某岛国环境与人口信息	
最多能供养的人口数量	45万
最适宜的人口数量	25万
2006年实际供养的人口数量	30万
预测2010年供养的人口数量	35万

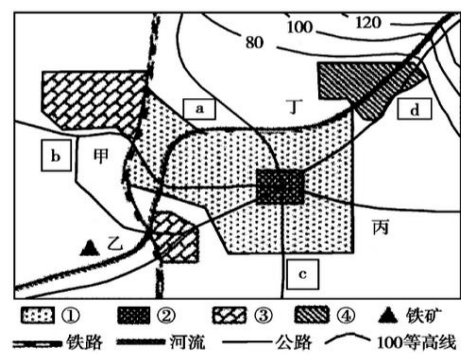
11. 下表中反映人口合理容量的数据是（ ）
- A. 25 万                      B. 30 万                      C. 35 万                      D. 45 万
12. 下列叙述正确的是（ ）
- A. 总人口数量是制约环境人口容量的首要因素    B. 无论在什么条件下，环境人口容量都不可能扩大
- C. 在一定条件下，环境人口容量是有可能扩大的    D. 我国人口合理容量应控制在 16 亿人左右

新疆维吾尔自治区位于我国西北边陲，面积 166 万平方公里，约占全国国土总面积的 1/6，常住人口为 21 813 334 人（第六次人口普查数据），人口密度约为全国的 1/10。

据此完成下列各题。

13. 制约新疆环境人口容量的资源短板是（ ）
- A. 耕地资源                      B. 水资源                      C. 矿产资源                      D. 草场资源
14. 为提高新疆环境人口容量，目前下列措施较合理的是（ ）
- A. 调整农业结构，提高灌溉技术                      B. 发挥光照优势，扩大水稻种植
- C. 出台优惠政策，促进人口的迁入                      D. 降低区内人们生活与文化消费水平

下图是某城市规划简图，该市常年盛行东北风，读下图，完成下列各题。



15. 该城市主要功能区包括住宅区、工业区、商业区和文化区，则图例中①②③④所代表的功能区分别是（ ）

- A. 住宅区、工业区、商业区、文化区
- B. 住宅区、商业区、工业区、文化区
- C. 商业区、住宅区、工业区、文化区
- D. 文化区、商业区、住宅区、工业区

16. 图中 a、b、c、d 四地中，最适宜于建设高级住宅区的是（ ）

- A. a
- B. b
- C. c
- D. d

我国东部某城市积极推进紧凑型城市建设，即通过控制城市蔓延，提高土地集约混合利用，以先进的公共交通系统连接各个社区，实现可持续发展的城市模式。下图示意三种建筑布局类型。据此完成下面小题。

类型	甲	乙	丙
形态			
人口密度	75 户 /hm <sup>2</sup>	75 户 /hm <sup>2</sup>	75 户 /hm <sup>2</sup>
容积率	98%	88%	75%
建筑密度	5%	30%	38%

注：容积率是指一个小区的地上总建筑面积与用地面积的比例  
建筑密度是指在一定范围内，建筑物的基底面积总和与用地面积的比例

17. 为发展紧凑型城市，该市应优选（ ）

- A. 甲类型
- B. 乙类型
- C. 丙类型
- D. 以上都是

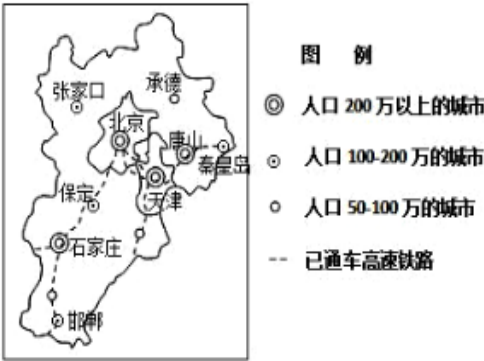
18. 紧凑型城市应该（ ）

- A. 不划分功能区
- B. 鼓励无人汽车
- C. 增加立体绿化
- D. 杜绝城市扩张

19. 发展紧凑型城市会（ ）

- A. 降低公共空间
- B. 加强钟摆式交通
- C. 加剧大气污染
- D. 保护农业用地

读京津冀部分地区示意图，完成下列小题。



20. 图中城市等级最高的是（ ）

- A. 北京                      B. 秦皇岛                      C. 天津                      D. 石家庄

21. 下列关于城市服务范围大小的比较，不正确的是（    ）

- A. 唐山比石家庄的服务范围大                      B. 北京的服务范围最大  
C. 天津比秦皇岛的服务范围大                      D. 张家口比石家庄的服务范围小

22. 下列说法正确的是（    ）

- A. 天津的服务种类和北京基本相同                      B. 天津的服务种类比北京服务种类多  
C. 天津有北京不具备的服务种类                      D. 天津的所有服务种类北京一定都有

为了推进京津冀协同发展、疏解北京非首都功能。国务院决定设立雄安新区。下图为该新区位置略图。完成下列小题。



23. 影响雄安新区选址河北省三县及周边地区的主要因素是（    ）

- A. 地形                      B. 地理位置                      C. 气候                      D. 矿产资源

24. 雄安新区建成对北京市的积极影响是（    ）

- A. 提升城市等级                      B. 增加城市职能                      C. 缩小服务范围                      D. 改善城市环境

城市化水平滞后程度＝（城市化率－工业化率）／工业化率，其值为正说明城市化发展水平领先于工业化水平，其值为负说明城市化发展水平滞后于工业化水平。

读下表完成下列各题。

地区	城市化率(%)	工业化率(%)
甲	86.3	25.2
乙	37.8	41.4
丙	44.9	56.0
丁	67.8	49.3

25. 城市化水平滞后最严重的地区是（    ）

- A. 甲                      B. 乙                      C. 丙                      D. 丁

26. 甲代表的省区最可能是（    ）

- A. 广东                      B. 北京                      C. 陕西                      D. 贵州

城市渠化是指将城市内河河道取直，硬化河堤、河底，改造岸坡为直立砌墙或混凝土墙，把天然河道变成人工明渠。读图完成下列各题。



27. 我国各地在城市化过程中均存在不同程度的城市渠化现象,其主要作用是 ( )
- A. 改善城市供水条件      B. 增强排污排涝能力      C. 提升内河航运能力      D. 增加休憩娱乐场所
28. 城市渠化对地理环境的负面影响是 ( )
- A. 河流流速减慢,泥沙淤积加重      B. 河道取直,水质恶化
- C. 底栖生物生存环境变化,生物多样性减少      D. 阻断与地下径流的联系,地下水位上升

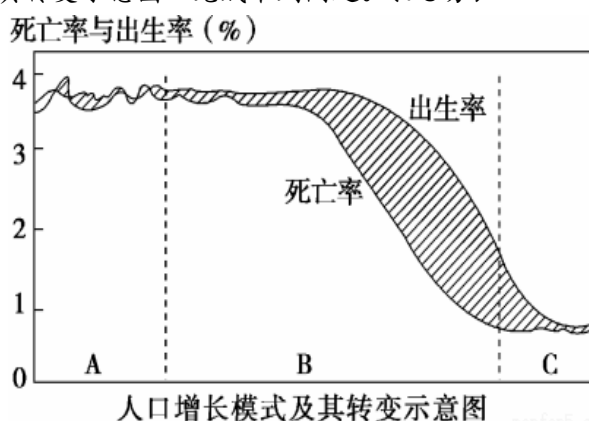
“睡城”也称“卧城”,主要指大城市周边人口相对集中的大型社区或居民点,人口虽然大量入住,但是仅局限于晚上回家睡觉,白天照样开车或乘车赶往市中心上班,燕郊隶属于河北省三河市,是我国众多“睡城”中的典型代表。每日跨省上班的京漂族,在燕郊和北京之间的道路上,呈现出明显的“潮汐式”流动。下图为燕郊相对位置示意图,图中箭头及数字表示京漂族每天上班的方向及平均距离。读图,完成下列各题。



29. 燕郊成为“睡城”,其原因有 ( )
- ①工资水平高    ②交通便利    ③与北京、天津的距离较近    ④房价相对较低
- A. ①②③      B. ①②④      C. ①③④      D. ②③④
30. 人口“潮汐式”流动会给北京带来一系列的问题,下列有利于缓解这些问题的措施是 ( )
- A. 燕郊及附近地区承接北京转移的部分产业      B. 在北京与燕郊之间增建高速公路
- C. 北京调整产业结构,大力发展高科技产业      D. 在北京及燕郊地区大量增建住宅区

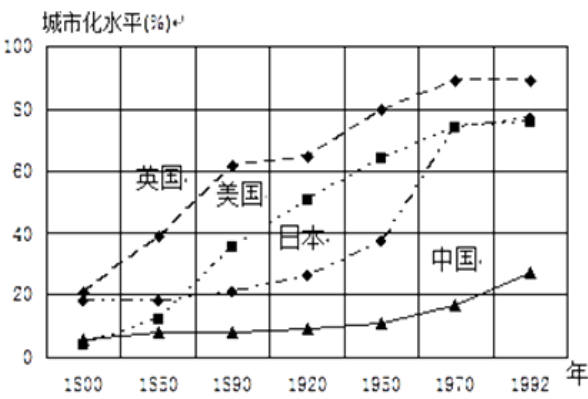
## 二. 综合题 (40分)

31. 读下面“人口增长模式及其转变示意图”完成下列问题。(10分)



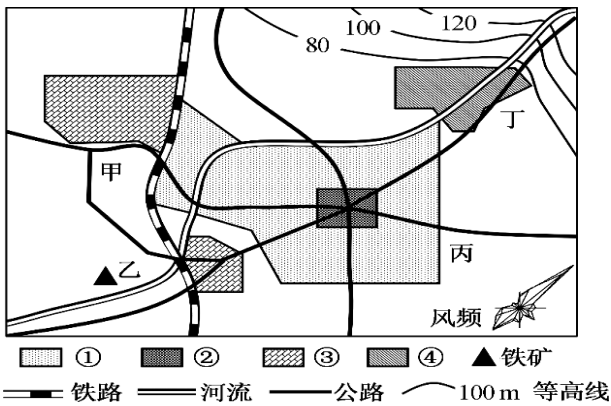
- (1) 图中斜线部分表示\_\_\_\_\_, 计算公式为\_\_\_\_\_。
- (2) 该图中处于传统型阶段的是\_\_\_\_\_; 按经济发展水平分类, 目前\_\_\_\_\_国家和地区从总体上看应属于该类型。
- (3) 人口增长模式转变的根本原因是\_\_\_\_\_, 首先是从\_\_\_\_\_开始下降开始的。
- (4) 人口年龄结构呈老年型, 世代更替缓慢的人口增长特点对应图中的是\_\_\_\_\_阶段。
- (5) 我国人口再生产类型已基本实现了从图中\_\_\_\_\_阶段向\_\_\_\_\_阶段转变的过程。这种转变主要是因为我国大力开展\_\_\_\_\_工作而取得的。

32. 读图回答下列问题 (10 分)



- (1) 一个国家或地区的城市化水平，可以用\_\_\_\_\_来表示，从图示可看出，\_\_\_\_\_国家的城市化水平最高。
- (2) 在 1800—1992 年间的六个时间段中，英国和日本城市化水平增幅最快的时段分别在\_\_\_\_\_，\_\_\_\_\_。
- (3) 目前英、美、日等发达国家的城市化速度\_\_\_\_\_，出现了\_\_\_\_\_现象。
- (4) 我国城市化发展速度较发达国家\_\_\_\_\_，但城市化水平较\_\_\_\_\_。
- (5) 过快城市化带来的环境污染有大气污染、\_\_\_\_\_污染、\_\_\_\_\_污染、固体废弃物污染。

33. 目前，我国城市正处于高速发展阶段，为了少走弯路，城市建设前先做好城市规划是城市发展的必然选择。下图为我国某城市规划简图。据此回答下列问题。(20 分)



- (1) ①②③④功能区中，最可能表示工业区的是\_\_\_\_\_。(2 分)
- (2) 随着人们对居住条件要求的提高，该市计划在甲、乙、丙、丁四处待规划用地中选定一处作为高级住宅区，你认为选择在哪儿较合理？请从环境的角度解释一下你选择的原因。(8 分)
- (3) 如果你是一位房地产开发商，在满足经济利益的前提下，除了考虑环境因素外，你认为还应该考虑\_\_\_\_\_、\_\_\_\_\_等因素，以更好地满足消费者的需求。(4 分)
- (4) 该市市中心②功能区处尚存一些古建筑，在某次城市规划听证会中，有部分人认为应加大古建筑的维修、翻新力度，甚至再重建一些仿古建筑，以扩大其规模效应。你是否赞成该观点？请说说你的理由。(6 分)